


איך הקורונה השפיעה על הסביבה?



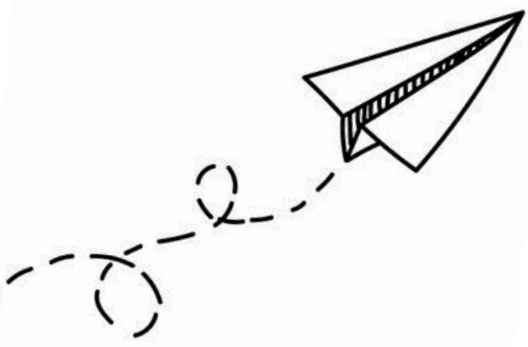

נצאת צוות קיימות

מילאנו, איטליה 📍

אחרי



לפני




רומא, איטליה 📍

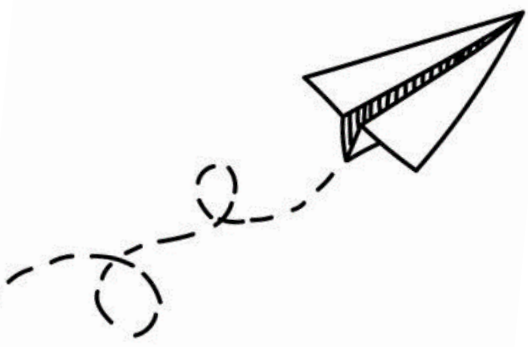
אחרי



לפני



בייג'ינג, סין 📍




אחרי



לפני



**ניתן לראות את ההבדל המשמעותי בין התמונות -
כמויות התיירים פחתו, ואיתם פחתו גם הטיסות,
צריכת הדלק, זיהום האוויר וכמויות הפסולת והאשפה.**

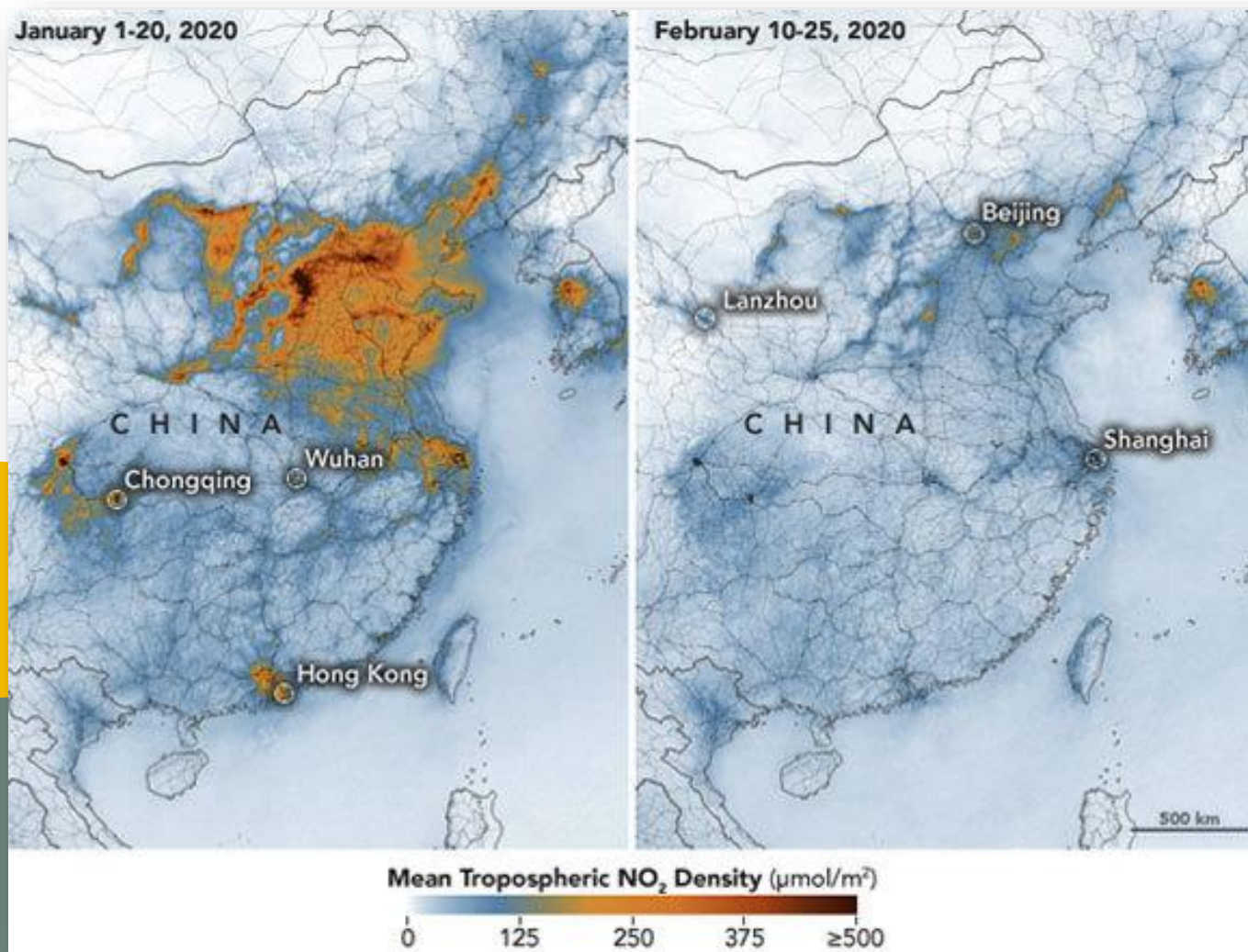


מה זה בכלל פחמן דו חמצני?

פחמן דו-חמצני הוא גז המהווה תרכובת של פחמן וחמצן.
בשל היותו אחד מהגזים העיקריים בכדור הארץ, יש המשערים כי
העלייה שלו היא הסיבה לתופעת ההתחממות העולמית.



ציהום האוויר ירד בעקבות השלכות הקורונה



**האם שמעתם בחדשות/ ברשתות
החברתיות חשהו בנושא?**



האם אתם הפחתתם/הגברתם
הרגל סביבתי מסוים בעקבות הקורונה?



האם התפרצות הקורונה יכולה להצייל את כדור הארץ?





Triviana

The logo features the word "Triviana" in a stylized, bold font. The letters are white with a thick red outline. The letter "C" is significantly larger and colored yellow, positioned below the "ri" and overlapping the "v". The text is set against a blue oval background that has a slight gradient from light blue at the top to a darker blue at the bottom.

הענף שנפגע יותר מכל כתוצאה מהקורונה הוא ____.

1

ג ענף הטקסטיל

א ענף התעופה

ד ענף האירועים

ב ענף התיירות





התשובה הנכונה:

הענף שנפגע יותר מכל כתוצאה מהקורונה
הוא ענף התעופה, שהיה הראשון להיפגע.



שוק התעופה האזרחית אחראי היום לכ-__ אחוזים מפליטת הפחמן העולמית, והפסקת הטיסות תורמת לירידה בפליטת גזי החממה* ולהפחתת זיהום האוויר.

*גזים שנמצאים באטמוספירה וגורמים לעלייה בטמפרטורה הממוצעת על פני כדור הארץ.

2

10%

ג

13.5%

א

2.5%

ד

7%

ב



ד

התשובה הנכונה:

שוק התעופה האזרחית אחראי היום לכ-2.5 אחוזים מפליטת הפחמן העולמית, והפסקת הטיסות תורמת לירידה בפליטת גזי החממה ולהפחתת זיהום האוויר.



סוכנות החלל האמריקאית דיווחה כי בינואר ובפברואר, נרשמה ירידה של ___ אחוזים בריכוז החנקן הדו חמצני*.
*תחמוצת חנקן זו היא גז רעיל, הפוגע בדרכי הנשימה ובריאות בפרט.

3

30-10%

ג

120%

א

50%

ד

75-80%

ב



ג

התשובה הנכונה:

סוכנות החלל האמריקאית דיווחה כי בינואר ובפברואר, נרשמה ירידה של 10-30 אחוזים בריכוז החנקן הדו חמצני.



מה מהבאים לא קרה בעקבות הקורונה?

4

התעלות של ונציה עברו
שיקום ונהיו נקיות יותר

ג

התגלו קני ציפורים
בקניזנים בארה"ב

א

הייתה ירידה חדה בפליטת
גזי החממה

ד

אחרי שנים רבות, בסמוד
לחופי סרדיניה נצפו
דולפינים לראשונה

ב





התשובה הנכונה:

(עדיין) לא התגלו קני ציפורים בקניונים
בארה"ב בעקבות הקורונה.



בעקבות ההסגר חיות בר רבות יצאו לרחובות.
איזה חיה בולטת הייתה בחיפה?

5

שועלים

ג

פרזת

א

בואשים

ד

חזירי בר


ב




ב

התשובה הנכונה:

חזירי בר רבים הגיעו לעיר חיפה.





האם הפעילות הידשה לכם אשה?
לאדתם אשה חדש?



מקווים שנהניתם!!

-300 קיימות-